

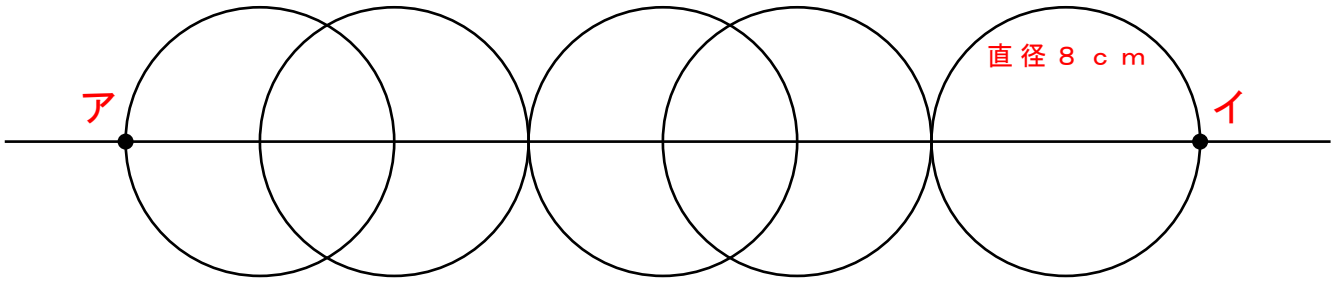
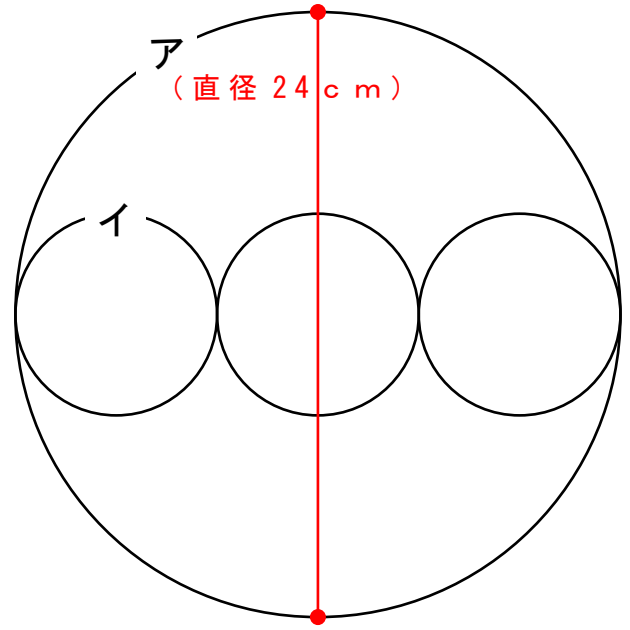
次^{もんだい}の問題の長さ^{もと}を求めましょう。

- 1 円ア^{ちよっけい}の直径が 24 cm の場合、
円イの直径は何 cm ですか？

答え 直径 () cm

また、
円イ^{はんけい}の半径は何 cm ですか？

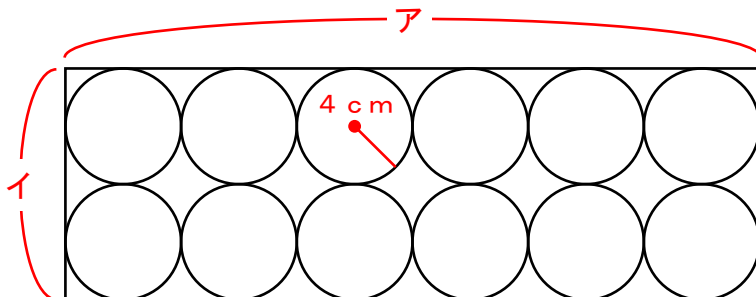
答え 半径 () cm



- 2 ものさしとコンパス^{つか}を使って上の図を書きました。
1 つの円の大きさは直径 8 cm です。
では、「点ア～点イ」までは何 cm でしょうか？

答え () cm

- 3 箱^{はこ}の中に半径 4 cm のボールを 12 こ入れました。
箱のア・イの長さはそれぞれ何 cm でしょうか？



答え 箱ア () cm

答え 箱イ () cm