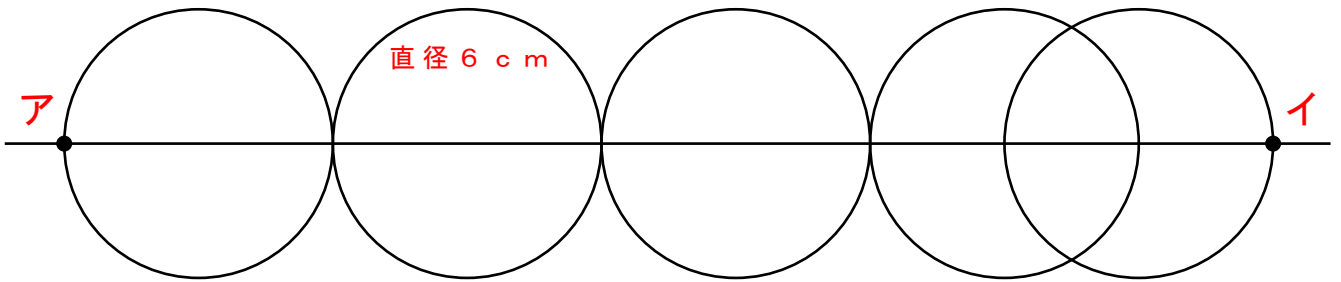
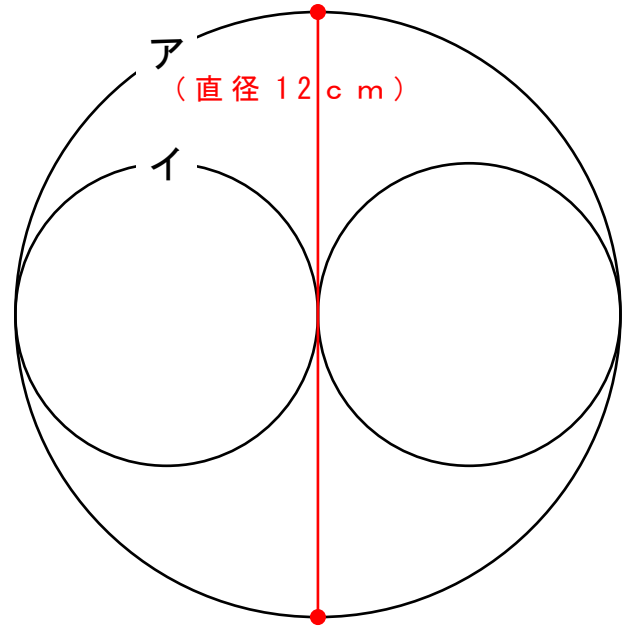


1 円アの直径が12cmの場合、  
円イの直径は何cmですか？

答え 直径 ( ) cm

また、  
円イの半径は何cmですか？

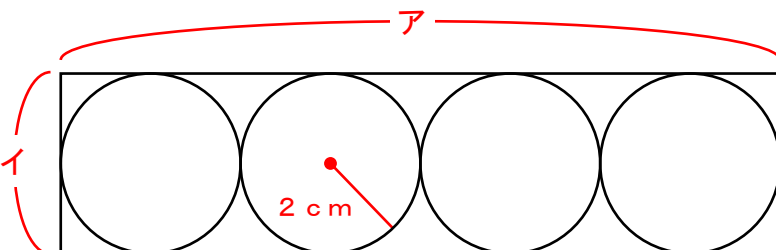
答え 半径 ( ) cm



2 ものさしとコンパスを使って上の図を書きました。  
1つの円の大きさは直径6cmです。  
では、「点ア～点イ」までは何cmでしょうか？

答え ( ) cm

3 箱の中に半径2cmのボールを4つ入れました。  
箱のア・イの長さはそれぞれ何cmでしょうか？



答え 箱ア ( ) cm

答え 箱イ ( ) cm