

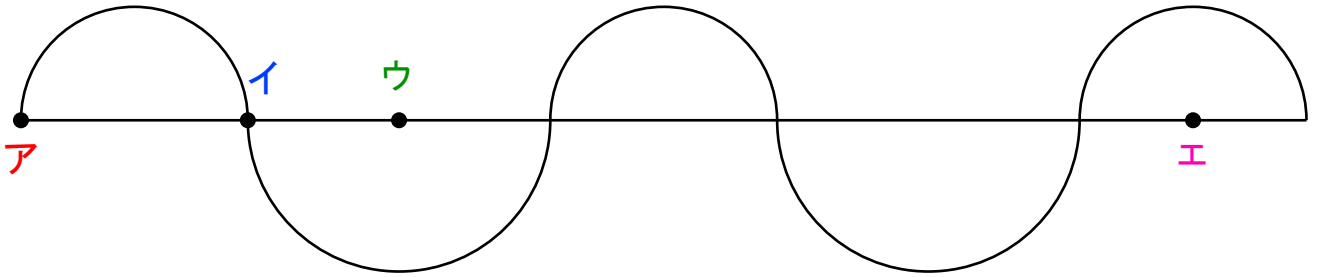
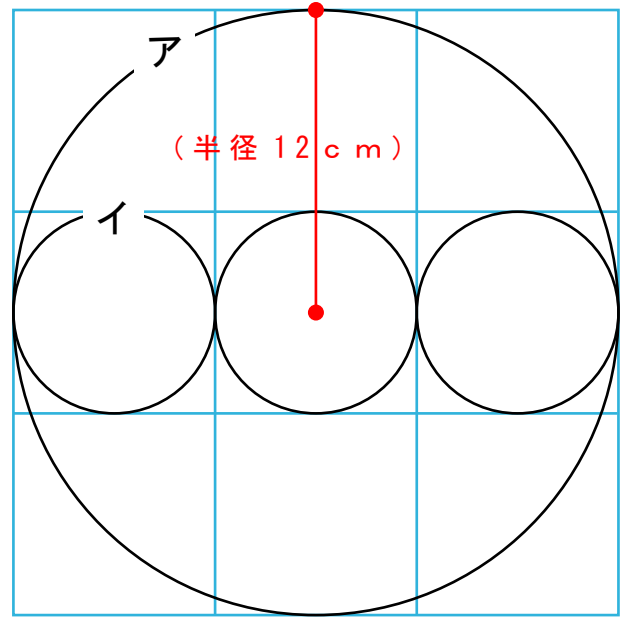
次もんだいの問題の長さもとを求めましょう。

- 1 円アの半径はんけいが 12 cm の場合、  
円イの直径は何 cm ですか？

**答え** 直径 (            ) cm

また、  
円イの半径はんけいは何 cm ですか？

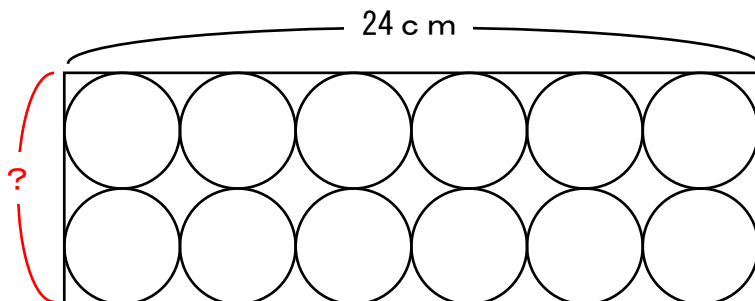
**答え** 半径 (            ) cm



- 2 ものさしとコンパスつかを使って上の図を書きました。  
「点ア～点イ」までが 6 cm、「点イ～点ウ」までが 4 cm です。  
では、「点ア～点エ」までは何 cm でしょうか？

**答え** (            ) cm

- 3 横の長さ 24 cm の箱はこの中にボールを 12 こ入れました。  
箱のたての長さは何 cm でしょうか？



**答え** (            ) cm