

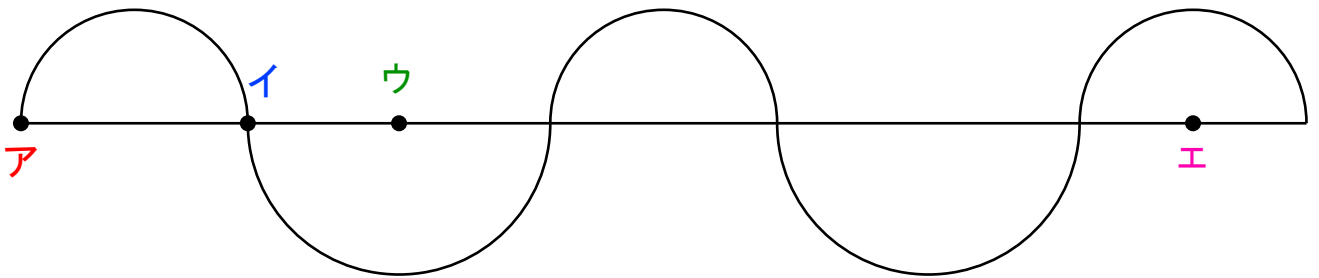
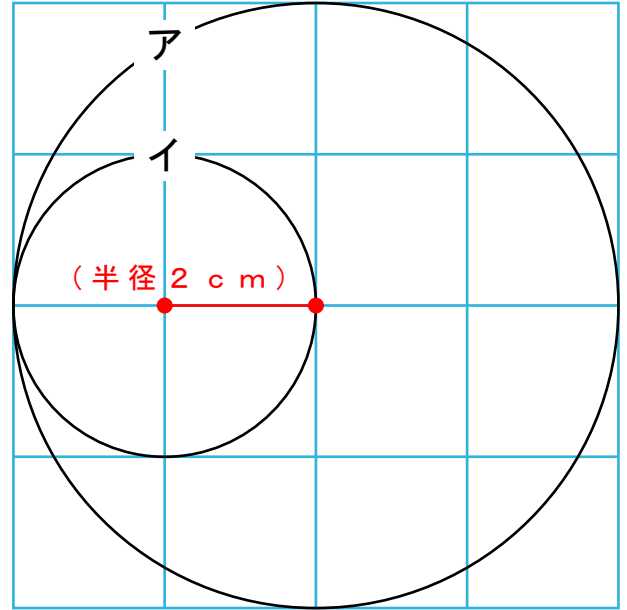
次もんだいの問題の長さもとを求めましょう。

- 1 円イの半径が2 cmの場合、
円アの半径は何 cmですか？

答え 半径 () cm

また、
円アの直径は何 cmですか？

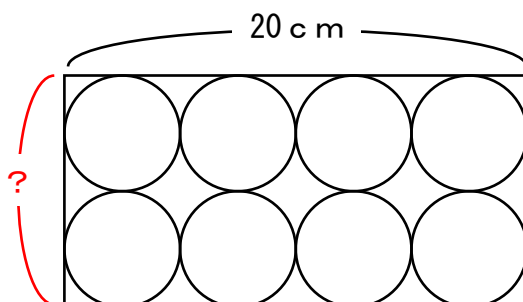
答え 直径 () cm



- 2 ものさしとコンパスつかを使って上の図を書きました。
「点ア～点イ」までが4 cm、「点イ～点ウ」までが3 cmです。
では、「点ア～点エ」までは何 cmでしょうか？

答え () cm

- 3 横の長さ20 cmの箱はこの中にボールを8こ入れました。
箱のたての長さは何 cmでしょうか？



答え () cm