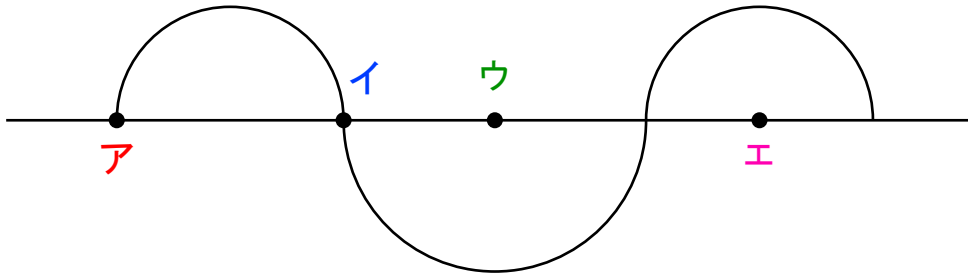
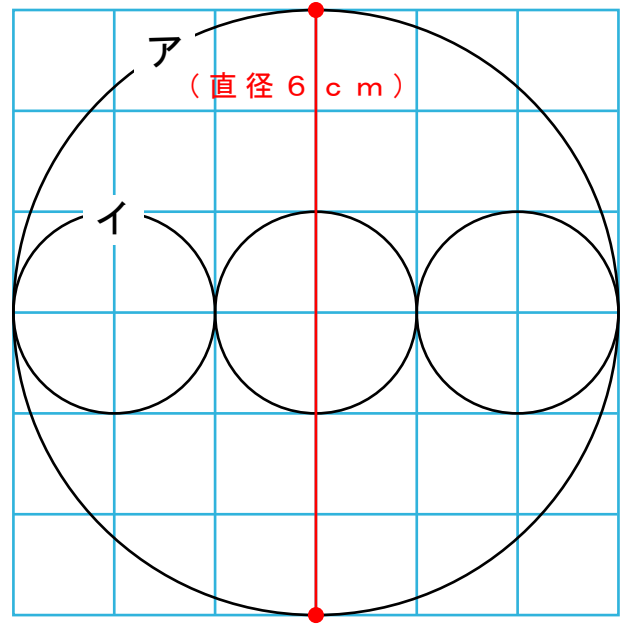


1 円アの直径が6 cmの場合、
円イの直径は何 cmですか？

答え 直径 () cm

また、
円イの半径は何 cmですか？

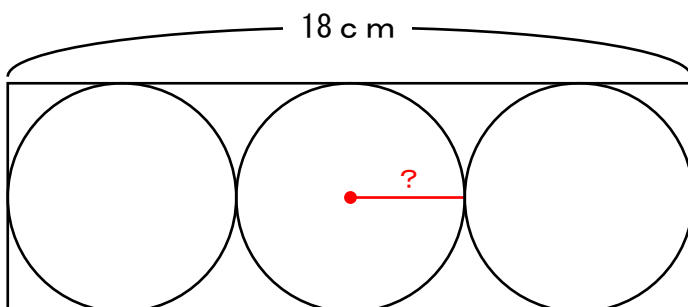
答え 半径 () cm



2 ものさしとコンパスつかを使って上の図を書きました。
「点ア～点イ」までが6 cm、「点イ～点ウ」までが4 cmです。
では、「点ア～点エ」までは何 cmでしょうか？

答え () cm

3 長さ18 cmの箱はこの中にボールを3つ入れました。
ボール1つ分の半径の長さは何 cmでしょうか？



答え 半径 () cm