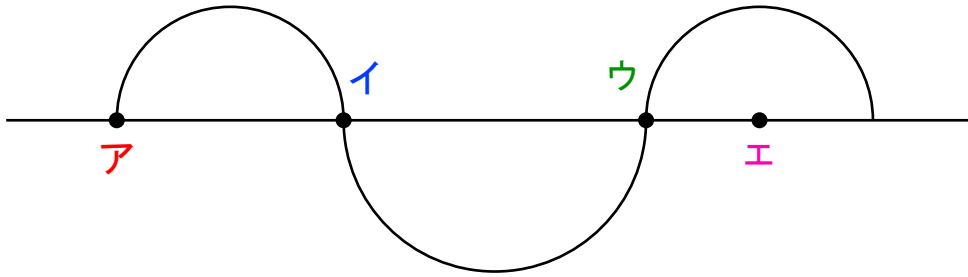
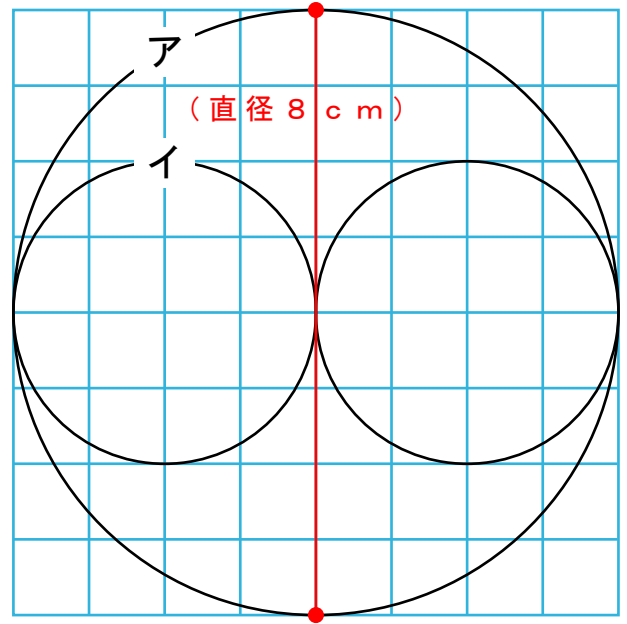


- 1 円アの直径が8 cmの場合、  
円イの直径は何 cmですか？

答え 直径 ( ) cm

また、  
円イの半径は何 cmですか？

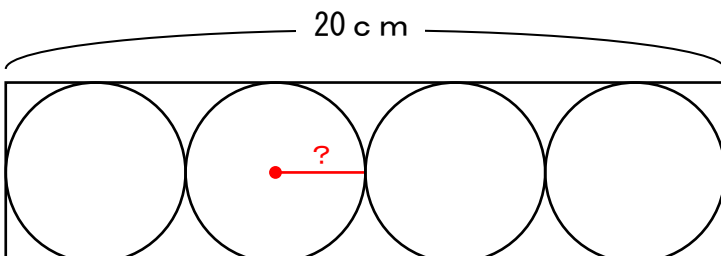
答え 半径 ( ) cm



- 2 ものさしとコンパスを使って上の図を書きました。  
「点ア～点イ」までが2 cm、「点イ～点ウ」までが3 cmです。  
では、「点ア～点エ」までは何 cmでしょうか？

答え ( ) cm

- 3 長さ20 cmの箱の中にボールを4つ入れました。  
ボール1つ分の半径の長さは何 cmでしょうか？



答え 半径 ( ) cm