


ぞうが 7とう います。

くまが 9とう います。

くまは ぞう より

なんとう おおい？



しき

---

こたえ


---

えんぴつが 3ぼん あります。

はさみが 8こ あります。

えんぴつ は はさみ より

いくつ すくない？



しき

---

こたえ


---

きんぎょが 5ひき います。

ひらめが 7ひき います。

ひらめ は きんぎょ より

なんびき おおい？



しき

---

こたえ


---

せみが 2ひき います。

こおろぎが 6ひき います。

せみ は こおろぎ より

なんびき すくない？



しき

---

こたえ

---