


かぶとむしが 5ひき います。  
くわがたむしが 2ひき います。  
どっちが なんびき おおい？




しき

---

こたえ

---

れもんが 8こ あります。  
ももが 3こ あります。  
どっちが なんこ すくない？




しき

---

こたえ

---

あかい はなが 9つ あります。  
あおい はなが 7つ あります。  
どっちが いくつ おおい？



しき

---

こたえ

---

ぎんこうが 4けん あります。  
びょういんが 7けん あります。  
どっちが なんけん すくない？



しき

---

こたえ

---