

じどうしゃが 8だい あります。  
とらつくが 3だい あります。  
どっちが なんこ おおい？



しき


---

こたえ

が だい おおい

---

あかいふうせんが 7つ あります。  
あおいふうせんが 9つ あります。  
どっちが いくつ おおい？



しき


---

こたえ

が つ おおい

---

はさみが 6こ あります。  
えんぴつが 4ほん あります。  
どっちが いくつ おおい？



しき


---

こたえ

が つ おおい

---

たこが 8ひき います。  
いか が 5ひき います。  
どっちが なんびき おおい？



しき

---

こたえ

が ひき おおい

---