


りんごが 9こ あります。
みかんが 5こ あります。
どっちが なんこ おおい？




しき

こたえ

が こ おおい

めだかが 2ひき います。
ねったいぎよが 7ひき います。
どっちが なんびき おおい？




しき

こたえ

が ひき おおい

にんじんが 7ほん あります。
だいこんが 9ほん あります。
どっちが なんほん おおい？




しき

こたえ

が ほん おおい

かえるが 3びき います。
かめが 8びき います。
どっちが なんびき おおい？



しき

こたえ

が ひき おおい