

じどうしゃが 5だい あります。
とらつくが 4だい あります。
じどうしゃは とらつく より
なんだい おおい？



しき

ひく

は


—

==

こたえ

だい

あかい ふうせんが 4つ あります。
あおい ふうせんが 3つ あります。
あかい ふうせんは
あおい ふうせん より
いくつ おおい？



しき

ひく

は


—

==

こたえ

つ

はさみが 5こ あります。
えんぴつが 2ほん あります。
はさみは えんぴつ より
なんこ おおい？



しき

ひく

は


—

==

こたえ

こ

たこが 4ひき います。
いか が 1ひき います。
たこは いか より
なんひき おおい？



しき

ひく

は

—

==

こたえ

ひき